



அமரர் புலமைச்சிகரம்
வே.அன்பழகன் ஞாபகார்த்தமாக

Ivinstamil.com செய்தி இயணயக்துளம் நடாத்தும்
தரம் 5 புலமைப்பரிசில் மாதிரி வினாத்தாள்கள் வெளியீடும்
வழிகாட்டல் கருத்தரங்கும்- 2022 (முற்றிலும் இலவசமானது)

திரு. து.திலீப்குமார் SLPS, Dip. in. Teach, B.Ed, PGDEM, M.Ed®
(பிரதி அதிபர், கொ/புனித லூசியாள் கல்லூரி, கொழும்பு)

சுட்டெண் : -----

வினாத்தாள் II

பரீட்சைக்குத் தோற்றும் உங்களுக்குரிய அறிவுறுத்தல்கள்.

- ❖ உங்கள் சுட்டெண்ணை மேற்குறித்த அடைப்பினுள்ளே இருக்கும் புள்ளிக்கோட்டின் மீது எழுதுங்கள்
- ❖ மூன்றாம் பக்கத்தில் குறித்த இடத்திலும் உங்கள் சுட்டெண்ணை எழுதுக.
- ❖ இவ்வினாத்தாளில் 60 வினாக்கள் உள்ளன.
- ❖ ஒவ்வொருவினாவிலும் மூன்றுவிடைகள் தரப்பட்டுள்ளன. மிகச் சரியான விடையைத் தெரிவுசெய்து அதன்கீழ்க் கோடுக.
- ❖ செய்கை வேலைக்காக ஒருதாள் வழங்கப்படும்

விடைத்தாள் பரீட்சகர்களுக்கு மாத்திரம்

பக்க இலக்கம்	பெற்ற புள்ளிகள்
02	
03	
04	
05	
06	
07	
08	
இறுதிப்புள்ளிகள்	
இலக்கத்தில்	
எழுத்தில்	

	ஒப்பம்
முதலாவதுபரீட்சகர் புள்ளிவழங்கும் விதிமுறைக்கேற்ப விடைத்தாள் மதிப்பீடு செய்யப்பட்டதெனச் சான்று படுத்துகின்றேன்.	V/III/T/
இரண்டாவதுபரீட்சகர் முதலாவதுபரிசீலனையின் மதிப்பீடுசரியானதெனச் சான்றுபகிக்கின்றேன்.	V/III/T/
கணிதபரீட்சகர் மதிப்பீடுவழங்கப்பட்ட புள்ளிகள் மற்றும் இறுதிப் புள்ளிசரியானதென தெரிவிக்கின்றேன்	V/III/T/EMF/
பிரதமபரீட்சகர் மேற்பார்வைசெய்வதற்கு இணங்க இறுதிப் புள்ளி சரியானதெனத் தெரிவிக்கின்றேன்	V/III/T/CH/

01) பின்வரும் பந்தியை வாசித்து, வினவப்பட்டுள்ள வினாக்களுக்குரிய விடைகளை எழுதுக.

பெளர்ணமி தினமான இன்று முழு நிலா வானில் திருவிழா இரதம் போல பவணி வந்துகொண்டிருக்கிறது. இராப்பொழுதில் இருள் அவனியொங்கும் வெண்மை ஒளி பரவியிருந்தது. தென்னோலைகளிலும், வாழையோலைகளிலும் நிலவொளி பட்டுப் பளபளக்கின்றது. இரவு நேரங்களில் சஞ்சரிக்கும் பறவைகளைக் கூட காண முடிகிறது.

- (i) முழு நிலா தோன்றும் தினம் எவ்வாறு அழைக்கப்படும்?
- (ii) இப்பந்தியில் இடம்பெற்றுள்ள எதிர்க்கருத்துச் சொற்சோடியை இனங்கண்டு எழுதுக.
- (iii) இப்பந்தியில் வந்துள்ள காலப்பெயர் ஒன்றை எழுதுக.
- (iv) “வெண்மை” இந்த சொல்லில் காணப்படும் உயிர்க்குறிகளின் பெயர்களை எழுதுக.
- (v) “பறவைகளை” என்பதன் ஒருமைச் சொல்லை எழுதுக.

02) பின்வரும் சந்தர்ப்பத்திற்கு மிகப் பொருத்தமான பழமொழியைப் புள்ளிக்கோட்டில் எழுதுக.

இளமையிற் பழகிய பழக்கத்தை வயது சென்ற காலத்திலும் திருத்த முடியாது.

.....

03) பொருத்தமான இடங்களில் நிறுத்தக்குறிகளை இடுக.

டில்சான் தனது தாயைப் பார்த்து நாளைக்குப் பாடசாலைக்கு வருவீர்களா என்று கேட்டான்

04) பின்வரும் வாக்கியத்தை பெண்பால், ஒருமை நிகழ்கால வாக்கியமாக மாற்றி எழுதுக.

மகன் அழகான படம் வரைந்தான் :-

05) கீழே தரப்பட்டுள்ள வாக்கியத்தை எழுத்து வழக்கில் எழுதுக.

நாங்கள் கோவிலுக்குப் போவோம் :-

06) அடைப்புக்குள் இருக்கும் சொற்களில் இருந்து மிகச் சரியானச் சொல்லைத் தெரிவுசெய்து அதன் கீழ் கோடிடுக.

- (i) விவசாயி வயலில் (கலைகளைப் , களைகளைப் , களைகலைப்) பிடுங்கினான்.
- (ii) நானும் நண்பர்களும் (ஒளித்து , ஒலித்து , ஒழித்து) விளையாடினோம்.

07) பின்வரும் ஒவ்வொரு வாக்கியத்தினதும் வெற்றிடத்திற்குப் பொருத்தமான வினைச்சொல்லை அடைப்பிலிருந்து தெரிவுசெய்து அதன் கீழ்க் கோடிடுக.

- (i) நாளை பரிசளிப்பு விழா (நடைபெறுகின்றது , நடைபெற்றது , நடைபெறும்)
- (ii) எங்கள் ஊரில் நேற்று நல்ல மழை (பெய்தது , பெய்கின்றது , பெய்யும்),
- (iii) பூக்களில் தேனீ தேனை உறிஞ்சிக் (குடிக்கின்றன , குடித்தன , குடித்தது)

08) பின்வரும் சொற்களைச் சேர்த்து எழுதுக.

(நாம், கற்கள், சிறுவர்கள், நான்)

- (i) சுவர் + ஓவியம் -
- (ii) நூறு + ஆண்டு -

09) கீழே தரப்பட்டுள்ள ஒவ்வொரு கருத்திற்கும் பொருத்தமான மரபுத் தொடரைக் கட்டத்திற்குள் இருந்து தெரிவுசெய்து கீறிட்ட இடங்களில் எழுதுக.

- (i) மனம் நோகப் பேசுதல் :-
- (ii) நிறையச் சம்பாதித்தல் :-

கண் வளர்த்தல் , அள்ளிக் குவித்தல் , நாக்குப் புரளுதல் , புண்படுத்தல்

10) கீழே தரப்பட்டுள்ள ஒவ்வொரு வினாவிற்கும், பொருத்தமான விடையை புள்ளிக்கோட்டில் எழுதுக.

- (i) “மடக்கேறும் அரவும்” என்னும் உயிர்க்குறி இடம்பெற்றுள்ள சொல்லொன்றை எழுதுக.....
(ii) “கீழ்க்காலும் சுழியும்” என்னும் உயிர்க்குறி இடம்பெற்றுள்ள சொல்லொன்றை எழுதுக.....


11) பின்வரும் ஒவ்வொரு வாக்கியத்தினதும் வெற்றிடத்திற்குப் பொருத்தமான சொல்லை அடைப்பினுள் இருந்து தெரிவுசெய்து அதன் கீழ்க் கோடிடுக.


- (i) A (doctor / teacher / postman) brings us letters.
(ii) The man is (cutting / writing / reading) the trees.

12) பின்வரும் ஆங்கில வாக்கியங்களின் கருத்துக்களைத் தமிழில் எழுதுக.

- (i) Who are you
(ii) Look at me

13) சரியாக எழுதப்பட்டுள்ள ஆங்கிலச் சொல்லைத் தெரிவுசெய்து அதன் கீழ்க் கோடிடுக.

- (i)  :- (Windaw / Window / Wendow)

- (ii)  :- (Shoes / Shoos / Sheos)

14) பின்வரும் சிங்களச் சொற்களுக்குரிய கருத்துக்களை தமிழில் எழுதுக.

- (i) போலய :- (ii) புட்டுவ :-

15) பின்வரும் வாக்கியம் சிங்களத்தில் கூறப்படும் விதத்தைத் தமிழ் எழுத்துக்களில் எழுதுக.

உங்கள் உள் எது?

16) கீழே தரப்பட்டுள்ள எண்களை உரோம எண்குறிகளில் எழுதுக.

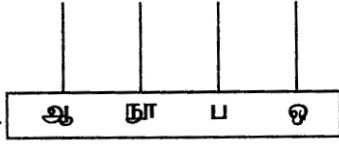
- (i) இருபது :- (ii) பதினான்கு :-

17)  உருவிலுள்ள,

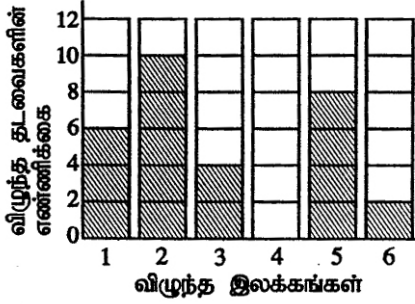
- (i) செங்கோணங்களின் எண்ணிக்கை யாது?
(ii) செங்கோணத்தை விடக் குறைந்த கோணங்களின் எண்ணிக்கை யாது?

18)  இவ்வருவின் சமச்சீர் அச்சக்களை வரைந்துக் காட்டுக.

19) $2124 + 1017$ இன் விடையை இவ்வண்சட்டத்தில் குறித்துக் காட்டுக.



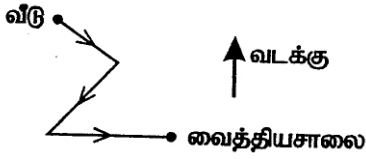
20)



தாயக்கட்டையொன்று 36 தடவைகள் மேலேசுண்டிவிடப்பட்டபோது ஒவ்வொரு இலக்கமும் விழுந்த தடவைகளின் எண்ணிக்கை அருகிலுள்ள வரையினால் காட்டப்பட்டுள்ளது.

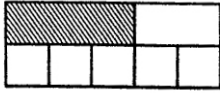
- (i) இலக்கம் 4 விழுந்த தடவைகளின் எண்ணிக்கையை வரையில் உரிய நிரலில் நிழற்றிக் காட்டுக.
- (ii) 6 தடவைகள் அல்லது 6 ஐ விட அதிக தடவைகள் விழுந்த இலக்கங்கள் எவை?

21)



கங்கா வீட்டிலிருந்து வைத்தியசாலைக்குப் பயணித்த திசைகளை ஒழுங்கு முறையில் எழுதுக.....

22)



இவ்வருவில் நிழற்றப்பட்டுள்ள பகுதி முழு உருவின் என்ன பங்காகும் என்பதைத் தசம எண்ணாகத் தருக.

23) குமார் ரூபாய் 745.00 ஐ எடுத்துக்கொண்டு கடைக்குச் சென்றான். ரூபாய் 1970.00 விலையிலான கழகார மொன்றை வாங்குவதற்கு அவனுக்கு மேலும் எவ்வளவு பணம் தேவைப்படும்?

24)



இக்கழகார முகத்தில் முற்பகல் நேரம் காட்டப்பட்டுள்ளது. அந்நேரத்தை 24 மணித்தியாலக் கழகார நேரத்தில் எழுதுக.

25) முற்பகல் 10.45 இற்குத் தனது வீட்டிலிருந்து புறப்பட்ட ரவி பிற்பகல் 2.00 இற்கு நூலகத்திற்குச் சென்றடைந்தான். வீட்டிலிருந்து நூலகத்திற்குச் செல்வதற்கு ரவிக்கு எடுத்த நேரத்தை மணித்தியாலங்களிலும் நிமிடங்களிலும் எழுதுக.

..... மணித்தியாலங்கள் நிமிடங்கள்

26) பின்வரும் எண் கோலங்களின் வெற்றுக்கூடுகளுக்குப் பொருத்தமான எண்களை வெற்றுக்கூடுகளிலுள்ளேயே எழுதுக..

(i) 90, 70, 50, 30

(ii) 1, 4, 9, 16 36

27) $30900 - 1$ இன் விடையை சொற்களில் எழுதுக.

28) 500 கிராம் கரட்டின் விலை ரூபாய் 80.00 ஆகும். 1 kg கரட்டை கொள்வனவு செய்து ரூபாய் 50.00 நாணயத் தாள்கள் 4 ஐக் கொடுத்தபோது கிடைக்கும் மீதிப் பணம் எவ்வளவு?

39) உடல் முழுவதும் முட்களைக் கொண்ட பிராணி,

1) வண்டு

2) உடும்பு

3) முள்ளம்பன்றி

40)



இம்முறையிலான கால்களைக் கொண்ட பறவை,

1) பருந்து

2) மரங்கொத்தி

3) கோழி

41) விலங்குகளில் தங்கியிருக்கும் பூ வகை,

1)



2)



3)



42)



இவ்வருவிலுள்ள பொலிஸ் அதிகாரியினால் காட்டப்படும் சமிக்ஞை,

1) பின்னால் வரும் வாகனங்கள் மாத்திரம் நிறுத்துக.

2) முன்னால், பின்னால் வரும் வாகனங்கள் அனைத்தும் நிறுத்துக.

3) முன்னால் வரும் வாகனங்கள் மாத்திரம் நிறுத்துக.

43) கரம் விளையாட்டில் பயன்படுத்தப்படும் சிவப்பு நிறக் காய்களின் எண்ணிக்கை.

1) 2

2) 3

3) 1

44) பெண்களால் மட்டும் விளையாடப்படும் விளையாட்டு,

1) வலைப்பந்து

2) கூடைப்பந்து

3) கரப்பந்து

45) அருகருகே அமைந்துள்ள இரு மாகாணங்கள்,

1) வடமேல் மாகாணம், தென் மாகாணம்

2) ஊவா மாகாணம், கிழக்கு மாகாணம்

3) மத்திய மாகாணம், மேல் மாகாணம்

46) ஒரே சமனான எண்ணிக்கையிலான பாதங்களைக் கொண்ட பிராணிகள்,

1) நண்டு, இறால்

2) சிலந்தி, தேனீ

3) உண்ணி, எறும்பு

47) தேசப்படத்தில் அதிவேக வீதியை குறித்துக் காட்டுவதற்குப் பயன்படுத்தப்படும் ஆங்கில எழுத்து,

1) A

2) D

3) E

48) இரண்டு மாவட்டங்களை மாத்திரம் கொண்டுள்ள மாகாணம்,

1) கிழக்கு மாகாணம்

2) வடமத்திய மாகாணம்

3) மேல் மாகாணம்

49) இலங்கை அரச இலச்சினை பற்றிய சரியான கூற்று,

1) அரச இலச்சினையின் உச்சியில் வாளேந்திய சிங்கம் உள்ளது.

2) பூவிதழ்களின் சரிநடுவில் நெற்கதிர்கள் உள்ளன.

3) சூரியனுக்கும் சந்திரனுக்கும் நடுவில் நிறைகுடம் உள்ளது.

50) ஒற்றுமையாகச் செயற்பட்டு, பாரமான உணவுகளைக்கூடக் காவிச்செல்லும் விலங்கினம்,

1) எறும்பு

2) சிலந்தி

3) கரப்பான்

51) இலங்கைக்கே உரித்தான தாவரம் அல்லாதது,

- 1) எண்ணை 2) காட்டிலுப்பை 3) ஈரப்பலா

52) பின்வரும் விளையாட்டுக்களில் ஒரு குழுவில் மிகக் குறைந்த வீரர்கள் பங்குகொள்ளக்கூடிய விளையாட்டு,

- 1) கிரிக்கெட் 2) கரப்பந்து 8) வலைப்பந்து

53) மின்காந்தம் ஒன்றை அமைக்கத் தேவையான பொருட்தொகுதி,

- 1) செப்புக் கம்பி, சட்டக்காந்தம், இரும்பாணி, குண்டுசி
2) இரும்பாணி, செப்புக் கம்பி, உலர் மின்கலம், மின்குமிழ்
3) இரும்பாணி, செப்புக் கம்பி, குண்டுசி, உலர் மின்கலம்.

54) இலங்கை அரச இலச்சினையிலுள்ள குறியீடுகளையும் அவற்றால் குறிக்கப்படுவனவற்றையும் சரியாகக் காட்டும் விடை,

- 1) நெற்கதிர்கள் - தன்னிறைவு 2) நிறைகுடம் - தார்மீகம் 3) சூரியன், சந்திரன் - சௌபாக்கியம்

55) நதிகளையும் அவை கடலில் கலக்கும் இடங்களையும் சரியாகக் காட்டும் விடை அல்லாதது,

- 1) மாணிக்க கங்கை - களுத்துறை
2) களனி கங்கை - கொழும்பு
3) நில்வள கங்கை - மாத்தறை

56) இலங்கைத் தேசியக் கொடியிலுள்ள வானேந்திய சிங்கம் எந்நிறப் பின்னணியில் காணப்படுகிறது?

- 1) மஞ்சள் 2) செம்மஞ்சள் 3) சிவப்பு

57) மஞ்சாழையைப் பயன்படுத்தி விளையாடப்படும் கிராமிய விளையாட்டு,

- 1) பல்லாங்குழி 2) போர்த்தேங்காய் 3) சடுகுடு

58)  இவ்வுருவினால் காட்டப்பட்டுள்ள வித்து,

- 1) முருங்கை 2) புலிநகம் 3) இறப்பர்

59) தைப்பொங்கல், பொசன், ஹஜ்ஜீப் பெருநாள், நத்தார் ஆகிய சமயப் பண்டிகைகளைக் கொண்டாடும் சமயத்-
தவர்களை ஒழுங்குமுறையாகக் காட்டும் விடை,

- 1) இந்துக்கள், பௌத்தர்கள், இஸ்லாமியர்கள், கிறிஸ்தவர்கள்
2) இஸ்லாமியர்கள், கிறிஸ்தவர்கள், இந்துக்கள், பௌத்தர்கள்.
3) பௌத்தர்கள், இந்துக்கள், இஸ்லாமியர்கள் கிறிஸ்தவர்கள்.

60) “தொற்று நோய்களிலிருந்து நம்மைப் பாதுகாத்துக்கொள்வோம்.” எனும் தலைப்பின் கீழ் மூன்று வாக்கியங்கள் எழுதுக.

(ஒவ்வொரு வாக்கியமும் ஐந்து சொற்களுக்குக் குறையாது இருத்தல் வேண்டும், எழுவாய், பயனிலைத் தொடர்பும், எழுத்துக் கூட்டலும் சரியாக இருத்தல் வேண்டும்)

1)

.....

.....

2)

.....

.....

3)

.....

.....

ஐவின்ஸ் நியூஸ் உலக தமிழர்களுக்கு
உடனுக்குடன் தமிழ் செய்திகளை கொண்டு செல்வதற்கான தளம்.

www.ivinstamil.com

